

ใบความรู้ชุดที่ 4

วิชา คณิตศาสตร์ ระดับชั้นประถมศึกษาปีที่ 3

เรื่อง การหาตัวไม่ทราบค่าในประโยคสัญลักษณ์

การหาตัวไม่ทราบค่าในประโยคสัญลักษณ์แสดงการบวกและการลบ สามารถใช้ความรู้เกี่ยวกับความสัมพันธ์ของการบวกและการลบมาช่วยในการหาคำตอบ กล่าวคือ ผลบวกของสองจำนวนใด ๆ เมื่อลบด้วยจำนวนใดจำนวนหนึ่งในสองจำนวนนั้น จะได้ผลลบเท่ากับอีกจำนวนหนึ่งเสมอ เช่น $\square + 45,520 = 72,842$ $72,842 - 27,322 = \square$ และ $72,842 - 45,520 = \square$

$$27,322 + 45,520 = 72,842$$

$$72,842 - 27,322 = 45,520$$

$$72,842 - 45,520 = 27,322$$

ใบงานชุดที่ 4

วิชา คณิตศาสตร์ ระดับชั้นประถมศึกษาปีที่ 3

เรื่อง การหาตัวไม่ทราบค่าในประโยคสัญลักษณ์



1. ให้นักเรียนหาค่าของตัวไม่ทราบค่าต่อไปนี้ แล้วตอบคำถาม



$$14,165 + \quad = \quad \img alt="butterfly" data-bbox="265 540 325 575"/>$$



$$43,684 + 17,265 = \quad \img alt="leaf" data-bbox="800 540 875 575"/>$$


$$78,694 - 57,239 = \quad \img alt="rose" data-bbox="400 610 455 645"/>$$

$$94,675 - \quad \img alt="pot" data-bbox="645 615 695 650"/> = 34,219$$

1.  +  =

2.  -  =

3.  +  =

4.  $\div 2$ =

5. ตัวไม่ทราบค่าใดมีค่ามากที่สุด

6. ตัวไม่ทราบค่าใดมีค่าน้อยที่สุด

7. จงวาดรูปเรียงลำดับตัวไม่ทราบค่าจากน้อยไปมาก

2. ทำแบบฝึกหัดในหนังสือเรียนวิชาคณิตศาสตร์ เล่ม 1 หน้า 97-99

ชื่อ..... ชั้น.....

ลงชื่อ.....

ผู้ปกครอง