



คะแนนที่ได้

ชื่อ-นามสกุล

ชั้น

เลขที่

ใบงานที่ 18

เรื่อง ส่วนต่างๆ ของพืช



วัตถุประสงค์ : เพื่อศึกษาส่วนประกอบของพืช

คำชี้แจง : ให้นักเรียนโยงเส้นระหว่างคำกับภาพส่วนประกอบของพืชให้สัมพันธ์กัน

ราก



ลำต้น



ผล



ดอก

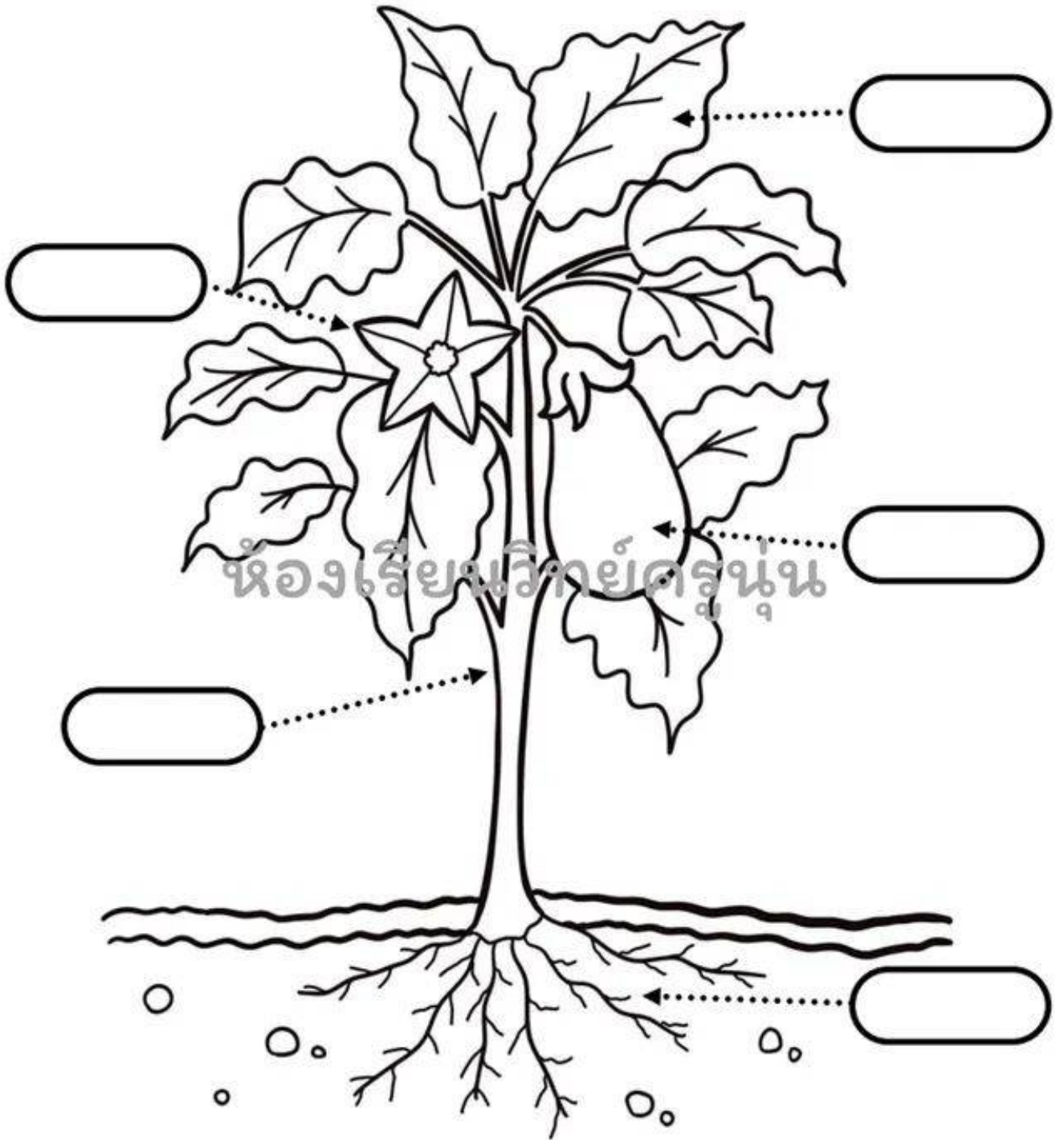


ใบ





บอกชื่อส่วนต่าง ๆ ของพืชให้ถูกต้อง



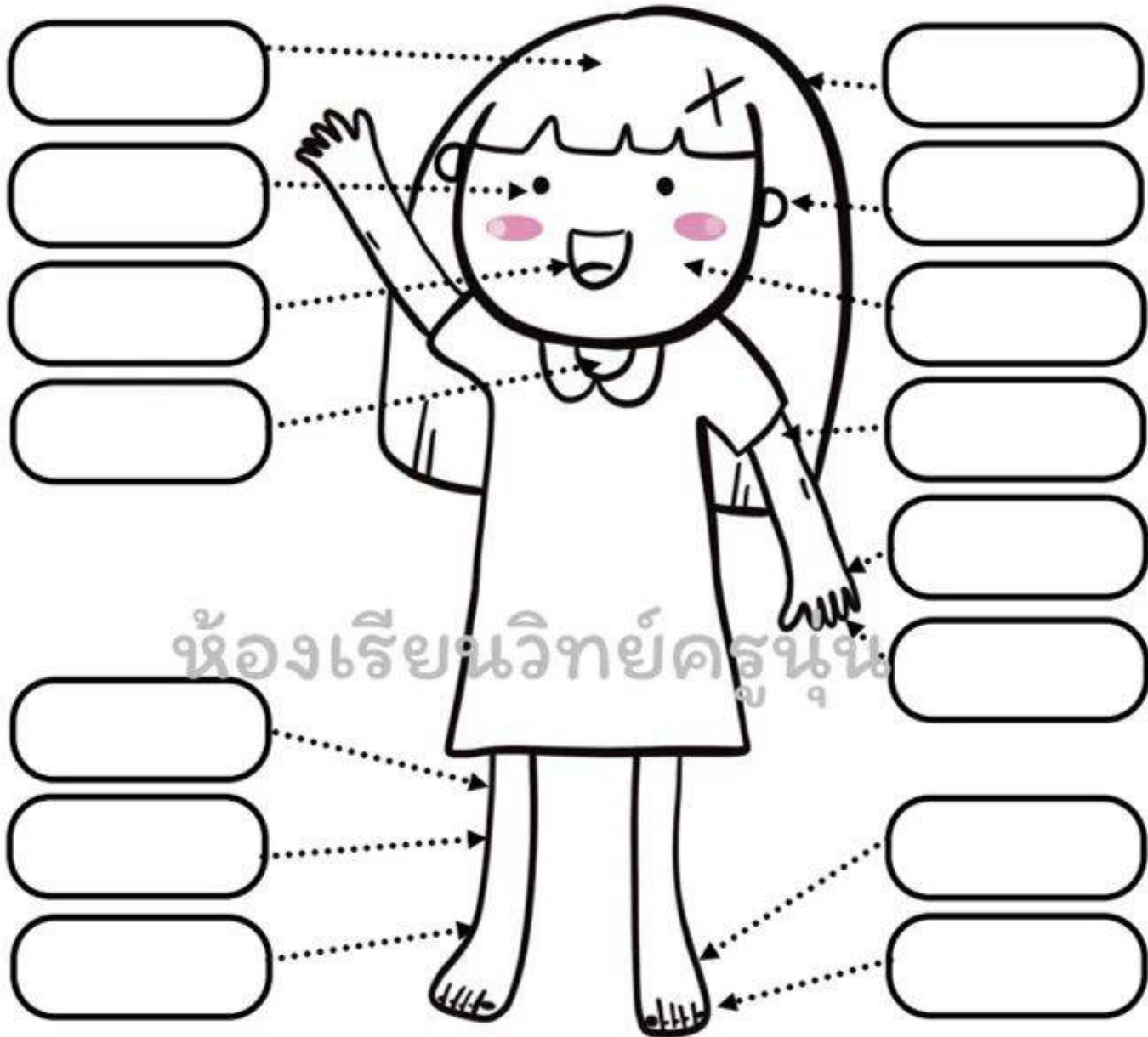
ลำต้น ราก ใบ ดอก ผล



คะแนน



ระบุชื่อของอวัยวะต่าง ๆ ในร่างกายให้ถูกต้อง



ห้องเรียนวิทย์ครูหนู

ขา ผม หัว ข้อเท้า นิ้วเท้า นิ้วมือ แขน ตา
เท้าหู ปาก คอ หน้า มือ หัวเข่า

ใบงานวิทยาศาสตร์ ชั้นประถมศึกษาปีที่ 1

คะแนน

เรื่อง ตัวเรา ใบงานที่ 2 อวัยวะภายนอกร่างกาย


ชื่อ - สกุล _____ ชั้น _____ เลขที่ _____

ตัวชี้วัด ว 1.2 ป.1/1

คำชี้แจง : ให้นักเรียนนำคำต่อไปนี้ เติมลงในช่องว่างให้ถูกต้อง

ผม ตา หู ฟัน ปาก จมูก แขน ขา เท้า นิ้ว

ไหล่ เข่า คอ หน้าอก มือ สะโพก ข้อเท้า นิ้วเท้า ข้อศอก



ใบงานวิทยาศาสตร์ ชั้นประถมศึกษาปีที่ 1

คะแนน

เรื่อง ตัวเรา ใบงานที่ 7 หน้าที่ส่วนต่างๆของร่างกาย

ชื่อ - สกุล _____ ชั้น _____ เลขที่ _____

ตัวชี้วัด ว 1.2 ป.1/1

คำชี้แจง : ให้นักเรียนเติมข้อความลงในช่องว่างแล้วโยงเส้นจากข้อความไปยังรูปให้ถูกต้อง

ตา	หู	จมูก	มือ	เท้า
ปาก	สมอง	ผิวหนัง	ลำไส้	หัวใจ

1 มีไว้มองดู

2 มีไว้ดมกลิ่น

3 มีไว้พูด

4 มีไว้ฟัง

5 มีไว้เดิน



ใบงานวิทยาศาสตร์ ชั้นประถมศึกษาปีที่ 1

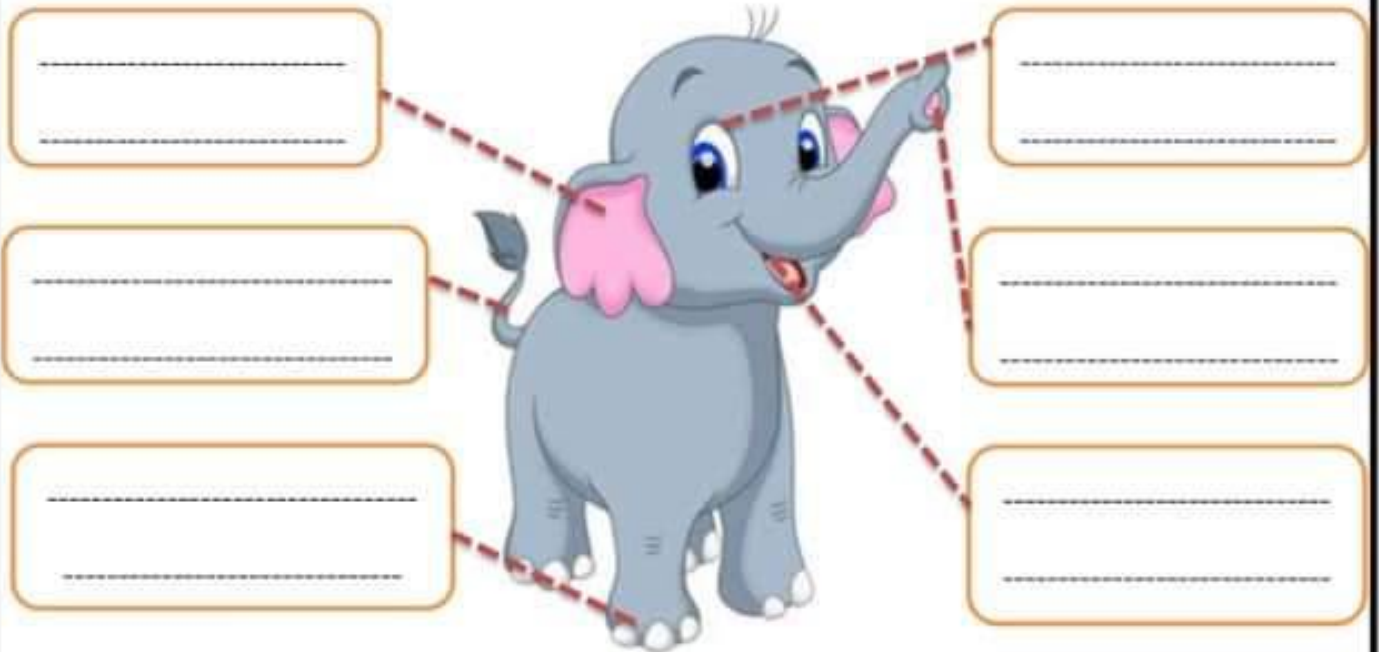
คะแนน

เรื่อง สิ่งมีชีวิตรอบตัว ใบงานที่18 สัตว์รอบตัวเรา

ชื่อ - สกุล _____ ชั้น _____ เลขที่ _____

ตัวชี้วัด ว 1.1 ป.1/1

คำชี้แจง : ให้นักเรียนระบุส่วนที่โยงเส้นคืออวัยวะใดและมีหน้าที่อย่างไร



ให้นักเรียนวาดภาพสัตว์ ระบุชื่อส่วนต่างๆ พร้อมบอกหน้าที่แต่ละส่วนว่ามีหน้าที่อย่างไรบ้าง

ชนิดของสัตว์ _____

เรื่อง ตัวเรา ใบงานที่11 การดูแลรักษาร่างกาย

ชื่อ - สกุล _____ ชั้น _____ เลขที่ _____

ตัวชี้วัด ว 1.2 ป.1/2


คำชี้แจง : ให้นักเรียนพิจารณาข้อความและรูปที่กำหนดให้ ว่ารูปใดเป็นวิธีการดูแลรักษาส่วนต่างๆของร่างกาย แล้วทำเครื่องหมาย ✓ ในช่องนั้น ให้ถูกต้อง



ใช้ยาหยอดตา
ตามที่แพทย์สั่ง



ใช้ผ้าปิดปากและจมูก
เพื่อป้องกันโรค



อ่านหนังสือในที่ที่มี
แสงแดดจ้า



ล้างมือให้สะอาดเมื่อ
จับสิ่งของ



บ้วนปากและแปรง
ฟันหลังรับประทานอาหาร



อาบน้ำและถูสบู่ทั่วร่างกาย



ใช้พินักัดขูด



เดินไม่ใส่รองเท้า



ใช้ไม้แคะหู

ใบงานวิทยาศาสตร์ ชั้นประถมศึกษาปีที่ 1

คะแนน

เรื่อง สิ่งมีชีวิตรอบตัว ใบงานที่13 สิ่งมีชีวิตและสิ่งไม่มีชีวิต

ชื่อ - สกุล _____ ชั้น _____ เลขที่ _____

ตัวชี้วัด ว 1.1 ป.1/1

คำชี้แจง : ให้นักเรียนทำเครื่องหมาย ✓ ใน ที่เป็นรูปสิ่งมีชีวิต และทำเครื่องหมาย ✕

ใน ที่เป็นรูปสิ่งไม่มีชีวิต



ใบงานวิทยาศาสตร์ ชั้นประถมศึกษาปีที่ 1

คะแนน

เรื่อง วัสดุรอบตัวเรา ใบงานที่29 ของเล่นของใช้

ชื่อ - สกุล _____ ชั้น _____ เลขที่ _____

ตัวชี้วัด ว 2.1 ป.1/1

คำชี้แจง : ให้นักเรียนสังเกตรูปแล้วโยงเส้นเพื่อแยกสิ่งของต่อไปนี้ว่าเป็นของเล่นหรือของใช้



ใบงานวิทยาศาสตร์ ชั้นประถมศึกษาปีที่ 1

คะแนน

เรื่อง เสียงรอบตัวเรา ใบงานที่38 ประเภทแหล่งกำเนิดเสียง

ชื่อ - สกุล _____ ชั้น _____ เลขที่ _____

ตัวชี้วัด ว 2.3 ป.1/1

คำชี้แจง : ให้นักเรียนโยงเส้นจับคู่รูปภาพกับประเภทแหล่งกำเนิดเสียงให้ถูกต้อง



แหล่งกำเนิดเสียงตามธรรมชาติ



แหล่งกำเนิดเสียงที่มนุษย์สร้างขึ้น

ใบงานวิทยาศาสตร์ ชั้นประถมศึกษาปีที่ 1

คะแนน

เรื่อง วัสดุรอบตัวเรา ใบงานที่35 การจัดกลุ่มของวัตถุ

ชื่อ - สกุล _____ ชั้น _____ เลขที่ _____

ตัวชี้วัด ว 2.1 ป.1/2

คำชี้แจง : ให้นักเรียนสังเกตรูปภาพ แล้วระบุได้ภาพว่าวัตถุชนิดนี้ทำมาจากวัสดุชนิดใด



.....

.....

.....