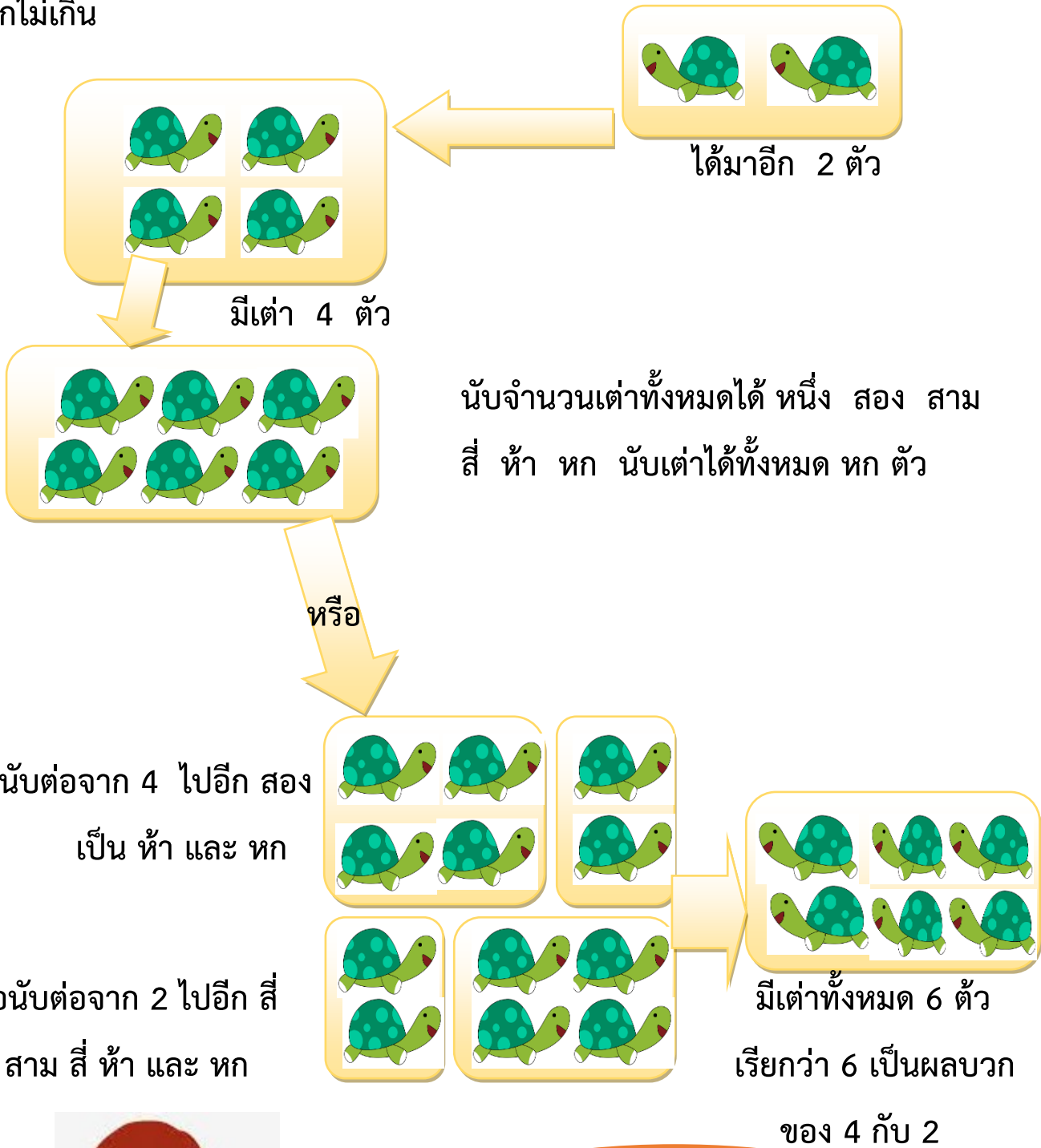


การบวกจำนวนสองจำนวนที่มีผลบวกไม่เกิน 9

การบวก

การบวกเป็นการนำจำนวนสองจำนวนมารวมกันผลรวมที่ได้เรียกว่าผลบวกที่มีผลบวกไม่เกิน



หาผลบวกได้โดยการนับเต่าทั้งหมดได้ หนึ่ง สอง สาม สี่ ห้า หก หรือนับเต่าทั้งหมดได้จากการนับต่อจาก 4 ไปอีก สอง เป็น ห้า และ หก หรือนับต่อจาก 2 ไปอีก สี่ เป็น สาม สี่ ห้า และ หก

ใบงานที่ 1

จงบวกเลขด้วยรูปภาพ

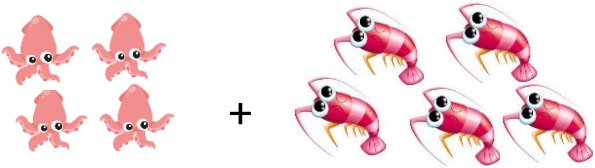
ตัวอย่าง




$$\underline{\quad 1 \quad} + \underline{\quad 2 \quad} = \underline{\quad 3 \quad}$$



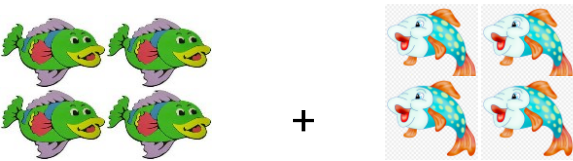
$$\underline{\quad \quad} + \underline{\quad \quad} = \underline{\quad \quad}$$



$$\underline{\quad \quad} + \underline{\quad \quad} = \underline{\quad \quad}$$




$$\underline{\quad \quad} + \underline{\quad \quad} = \underline{\quad \quad}$$



$$\underline{\quad \quad} + \underline{\quad \quad} = \underline{\quad \quad}$$



$$\underline{\quad \quad} + \underline{\quad \quad} = \underline{\quad \quad}$$




$$\underline{\quad \quad} + \underline{\quad \quad} = \underline{\quad \quad}$$



$$\underline{\quad \quad} + \underline{\quad \quad} + \underline{\quad \quad} = \underline{\quad \quad}$$



$$\underline{\quad \quad} + \underline{\quad \quad} = \underline{\quad \quad}$$



$$\underline{\quad \quad} + \underline{\quad \quad} = \underline{\quad \quad}$$

ใบงานที่ 2



เติมคำตอบลงใน  ให้ถูกต้อง

$1 + 0 = \square$

$1 + 1 = \square$

$2 + 3 = \square$

$0 + 5 = \square$

$4 + 4 = \square$

$0 + 6 = \square$

$4 + 1 = \square$

$6 + 3 = \square$

$7 + 0 = \square$

$2 + 8 = \square$

$1 + 6 = \square$

$6 + 2 = \square$

$4 + 5 = \square$

$9 + 0 = \square$

$3 + 4 = \square$

$8 + 0 = \square$

$5 + 3 = \square$

$1 + 5 = \square$

$3 + 2 = \square$

$4 + 2 = \square$

$3 + 3 = \square$

$0 + 7 = \square$

$2 + 0 = \square$

$1 + 9 = \square$

$0 + 10 = \square$

$1 + 3 = \square$

$0 + 3 = \square$

ชื่อ

ชั้น

ใบงานที่ 3

เขียนตัวเลขแสดงความสัมพันธ์จำนวนแบบส่วนย่อย - ส่วนรวม 6 ถึง 10

ตัวอย่าง

